




## Zadanie

1. Uzupełnij tabelkę. Jaki dostrzegasz związek między liczbą wierzchołków, krawędzi i ścian każdego graniastosłupa?

Podstawa graniastosłupa	Nazwa graniastosłupa	Liczba ścian	Liczba krawędzi	Liczba wierzchołków
Trójkąt				
Czworokąt				
Pięciokąt				
Sześciokąt				
n-kąt				



2. Suma liczby wierzchołków i liczby krawędzi pewnego graniastosłupa równa się **50**, a suma liczby wierzchołków i liczby ścian równa się **20**.

**Jaki wielokąt jest w podstawie tego graniastosłupa?**